



Сурагчийн нэр:

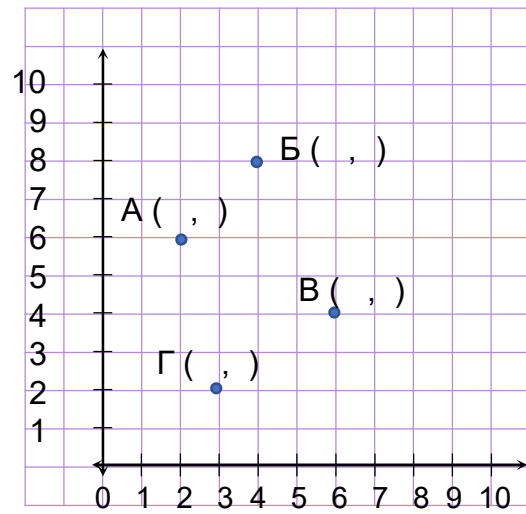
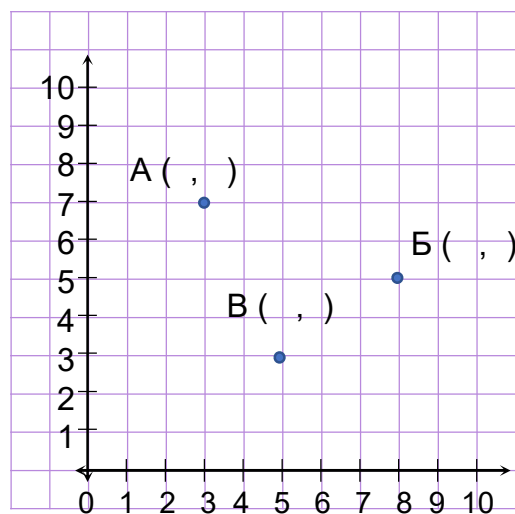
Эхэлсэн: он сар өдөр

Босоо тэнхлэг

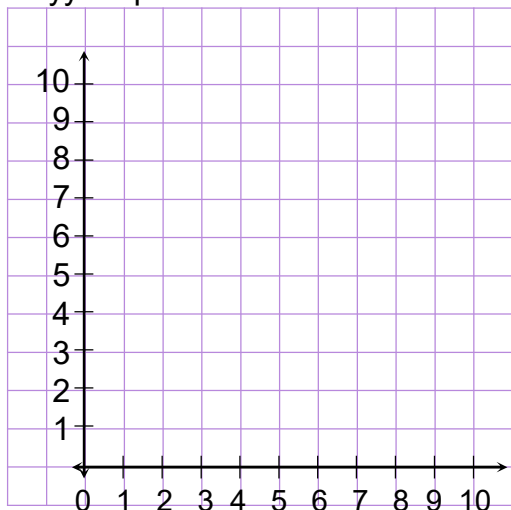
А цэг хэвтээ тэнхлэгийн 5,
босоо тэнхлэгийн 7 дээр байршиж байгаа тул
А цэгийн координат нь (5,7) байна.

Хэвтээ тэнхлэг

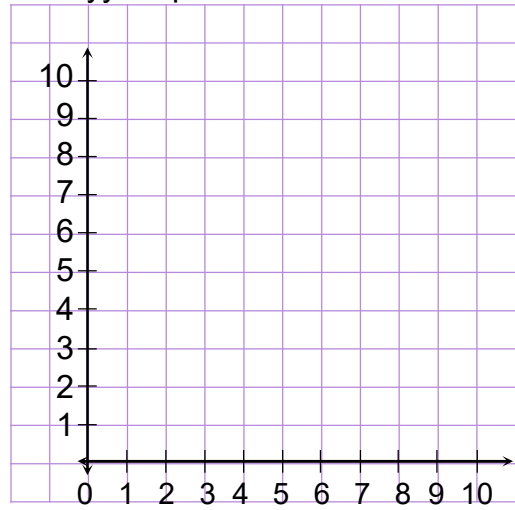
1 Цэгүүдийн координатыг бичээд, хэрчмээр холбон дүрс үүсгээрэй.



2 (2,1), (2,5), (4,8), (6,5), (6,1) координаттай цэгүүдийг тэгш өнцөгт координатын хавтгайд тэмдэглэж, хэрчмээр холбон дүрс байгуулаарай.



3 (3,4), (5,4), (8,7), (8,4), (10,4), (9,2) координаттай цэгүүдийг тэгш өнцөгт координатын хавтгайд тэмдэглэж, хэрчмээр холбон дүрс байгуулаарай.



Дууссан:сарөдөр



Даалгавар	1	2	3
Өөрийн үнэлгээ	☺	☺	☺



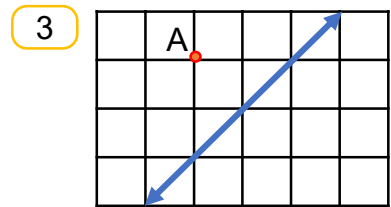
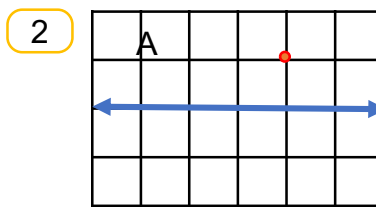
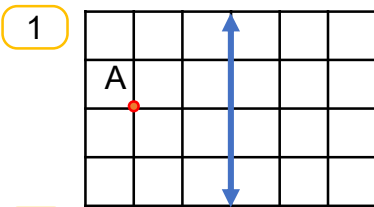
Сурагчийн нэр:

Эхэлсэн: он сар өдөр

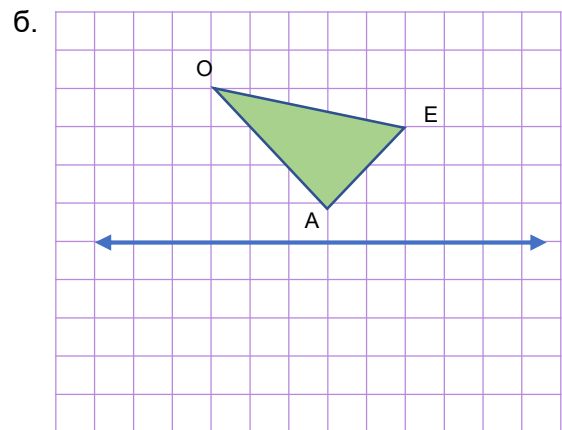
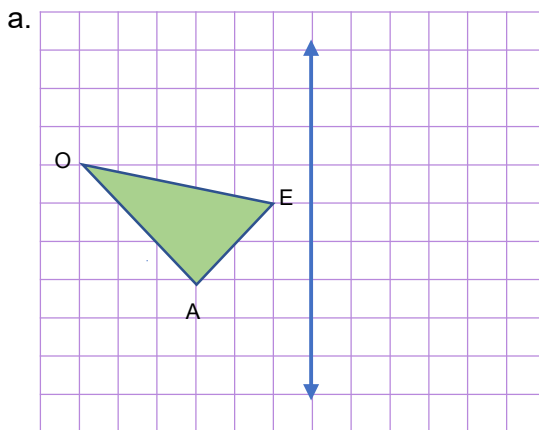



- Тэгш хэмийн тэнхлэгийн дагуу нугалахад давхцана.
- Дүрсийг шулууны хувьд тэгш хэмтэйгээр хувиргахад гарах дүрс нь түүнтэй тэнцүү байна.

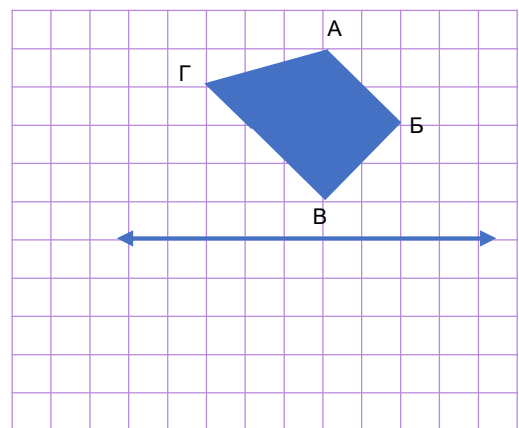
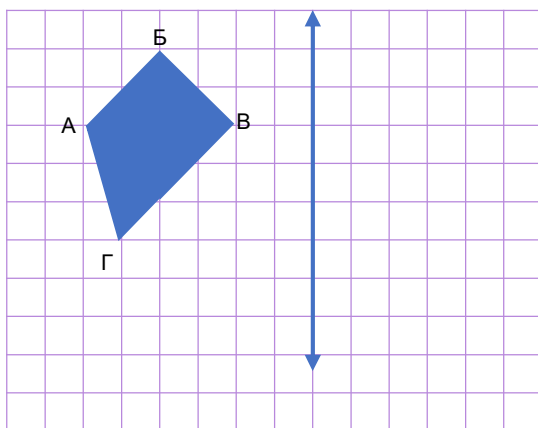
А цэгийг өгсөн шулууны хувьд тэгш хэмтэй хувиргаарай.



4 АЕО тэгш өнцөгт гурвалжныг өгсөн шулууны хувьд тэгш хэмтэй хувиргахад үүсэх гурвалжныг ВСМ гэж тэмдэглээрэй.



5 АБВГ дөрвөн өнцөгтийг өгсөн шулууны хувьд тэгш хэмтэйгээр хувиргахад үүсэх дүрсийг МТОР гэж тэмдэглээрэй.



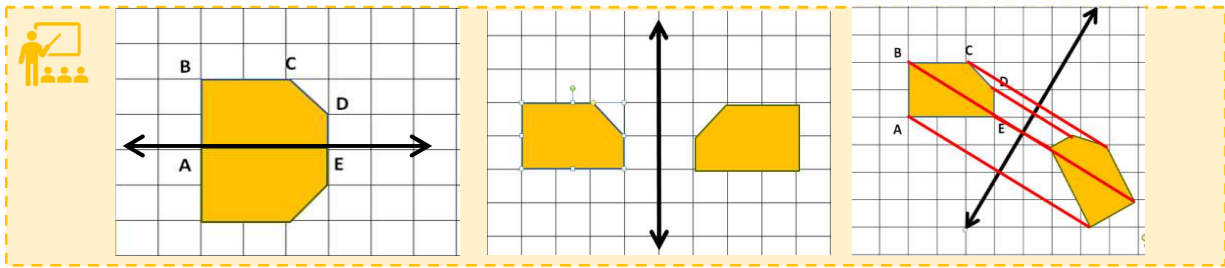
Дууссан:сарөдөр



Даалгавар	1	2	3	4	5
Өөрийн үнэлгээ	☹	☹	☹	☹	☹

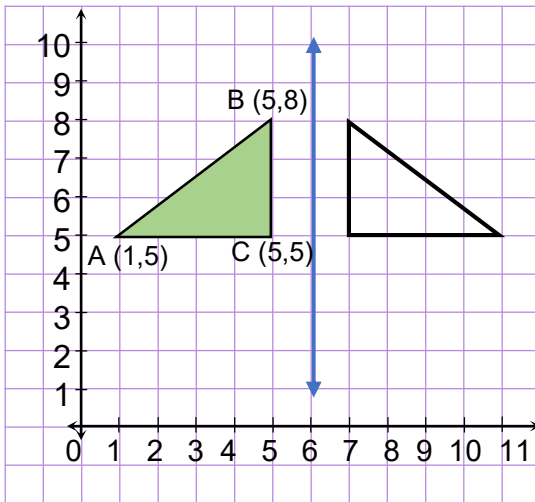
Сурагчийн нэр:

Эхэлсэн: он сар өдөр

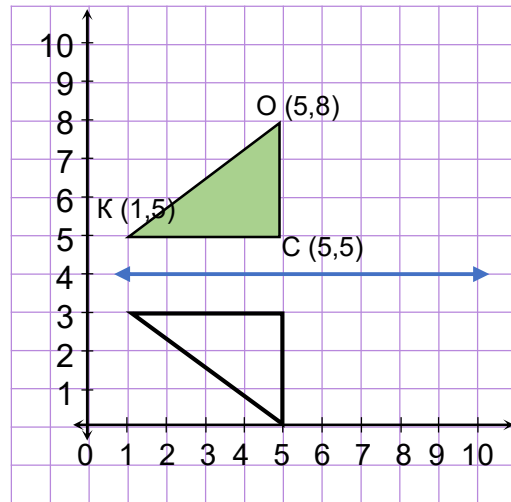


1 Координатын хавтгайн I мөчид байрлах будсан гурвалжинг шулууны хувьд тэгш хэмтэй хувирган зурсан байна. Үүсэн гурвалжны цэгийн координатыг бичээрэй.

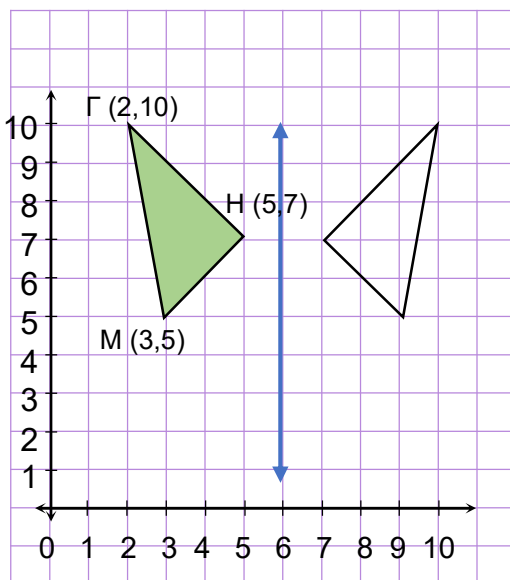
а.



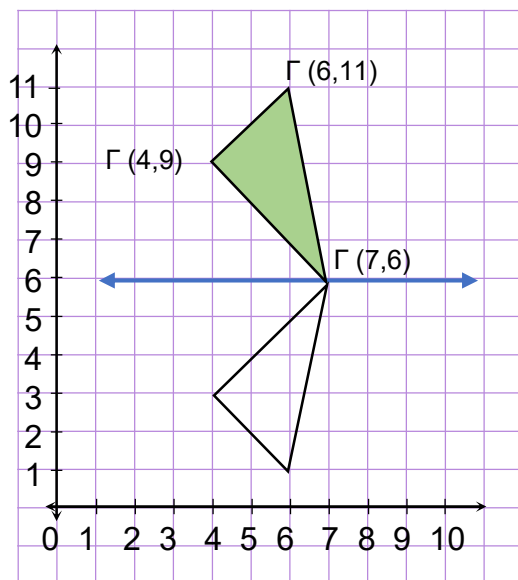
б.



в.



г.



Дууссан:сарөдөр



Даалгавар	а	б	в	г
Өөрийн үнэлгээ	😊	😊	😊	😊



Сурагчийн нэр:

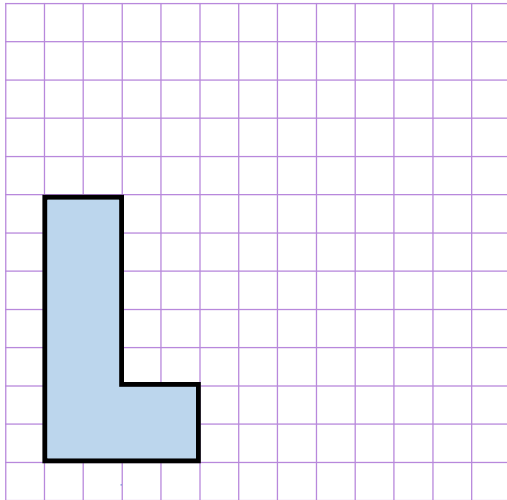
Эхэлсэн: он сар өдөр

Дүрс параллел зөөлтөөр тодорхой чиглэл, зайд шилждэг.

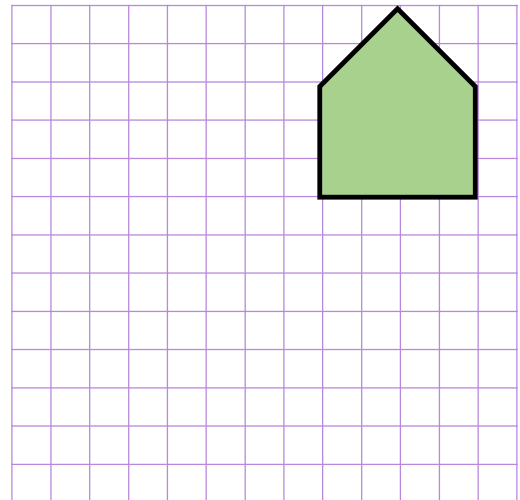
Чиглэл /зүүн, баруун, дээш, доош/
Зай /хэдэн нэгж, хэдэн нүд/

Дүрсийг зааврын дагуу параллелээр зөөж зураарай. (1-4-р даалгавар)

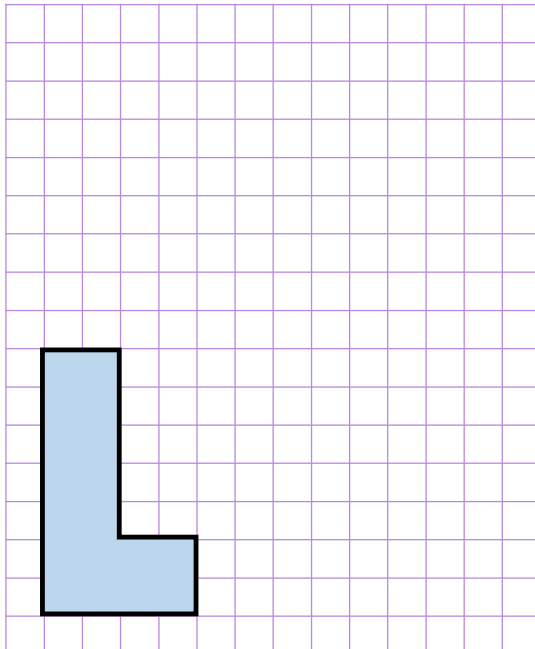
1 Дүрсийг баруун гар тийш, 6 нэгжээр зөөж зураарай.



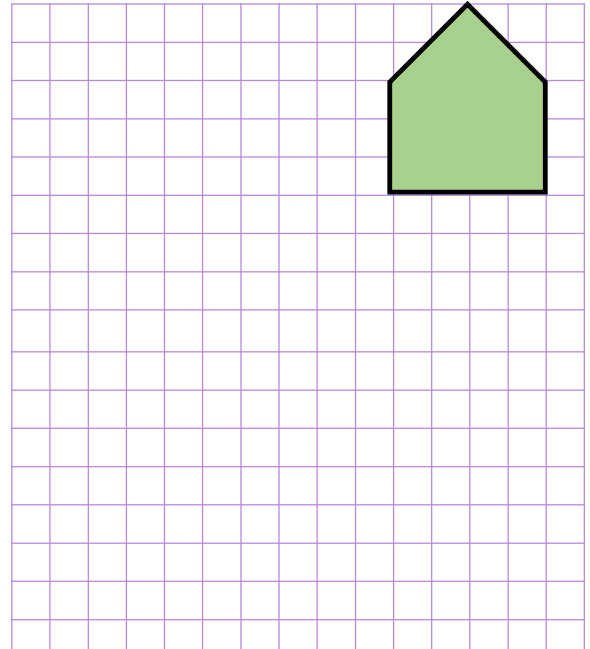
2 Дүрсийг доош нь 7 нэгжээр зөөж зураарай.



3 Дүрсийг баруун гар тийш 6 нэгж, дээшээ 7 нэгжээр зөөж зураарай.



4 Дүрсийг доош нь 7 нэгж, зүүн гар тийш 5 нэгжээр зөөж зураарай.



Дууссан:сарөдөр



Даалгавар	1	2	3	4
Өөрийн үнэлгээ	😊	😊	😊	😊



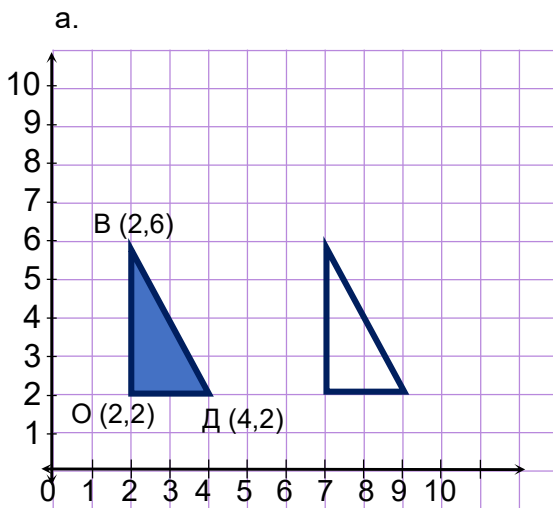
Сурагчийн нэр:

Эхэлсэн: он сар өдөр

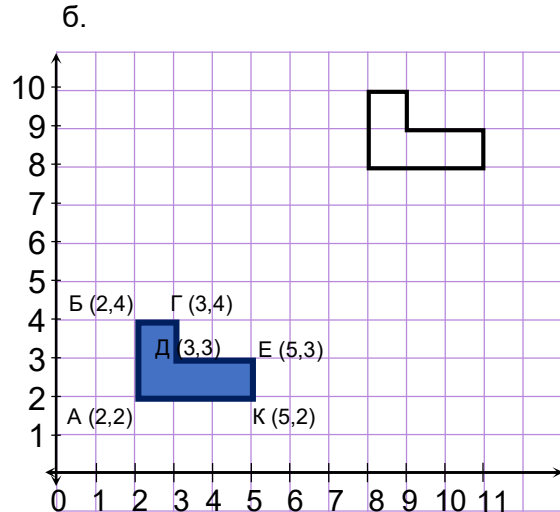
Дүрс параллел зөөлтөөр тодорхой чиглэл, зайд шилждэг.

Чиглэл /зүүн, баруун, дээш, доош/
Зай /хэдэн нэгж, хэдэн нүд/

1 Будсан дүрсийг параллелаар зөөсөн байна. Аль чиглэлд, хэдэн нэгжээр зөөснийг бичээрэй.

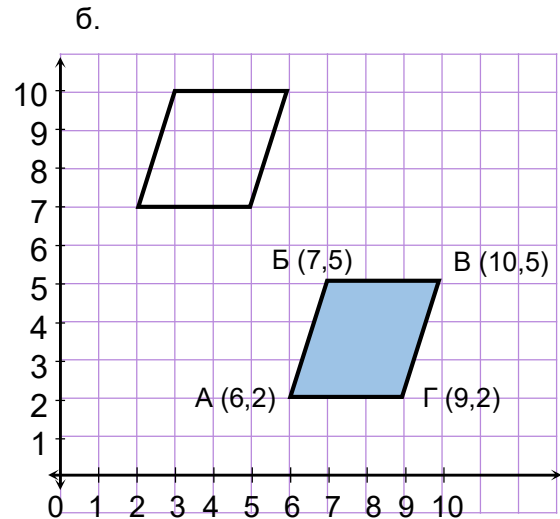
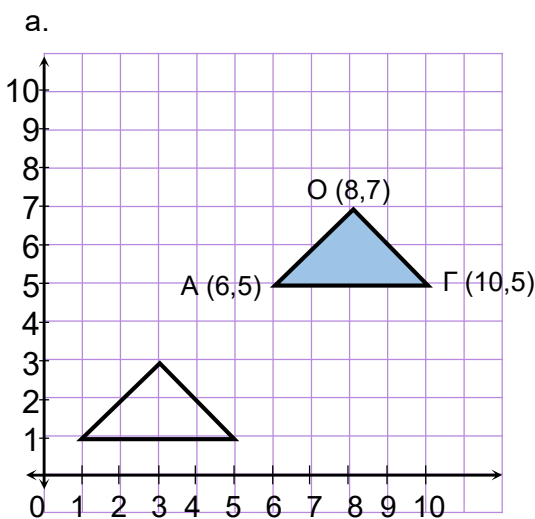


Дүрсийг.....чиглэлд
... нэгжээр зөөсөн байна.



Дүрсийг чиглэлд ...
нэгжээр, чиглэлд ...
нэгжээр зөөсөн байна.

2 Будсан дүрсийг параллелаар зөөсөн байна. Үүссэн дүрсийн оройн цэгийн координатыг тэмдэглээрэй.



Дууссан:сарөдөр



Даалгавар	1а	1б	2а	2б
Өөрийн үнэлгээ	😊	😊	😊	😊